

Opgave 5 – Ontwikkelingsland Brazilië: Handelspartners van Brazilië

Bij deze opgave horen de bronnen 11 en 12.

Gebruik bron 11.

Hieronder staan drie uitspraken over de import en export van Brazilië.

Uitspraak 1: Brazilië heeft in 1997 en in 2017 een positieve handelsbalans.

Uitspraak 2: tussen 1997 en 2017 is het aandeel van de triadelanden in de handel met Brazilië toegenomen.

Uitspraak 3: de handel van Brazilië profiteert van global shift.

2p 17 Geef voor elke uitspraak aan of die juist of onjuist is.

De omvang van de Braziliaanse handel is het grootst van alle landen van Zuid-Amerika (zie bron 12). Toch kun je op basis hiervan geen conclusies trekken over de welvaart van het land.

2p 18 Geef twee redenen waarom je uit de omvang van de handel geen conclusies kunt trekken over de welvaart in Brazilië.

Brazilië claimt binnen Zuid-Amerika een centrumpositie.

2p 19 Geef twee argumenten **tegen** deze claim.

Gebruik bron 12.

In 2015 was het aandeel van Brazilië in de wereldhandel toegenomen tot meer dan 1%.

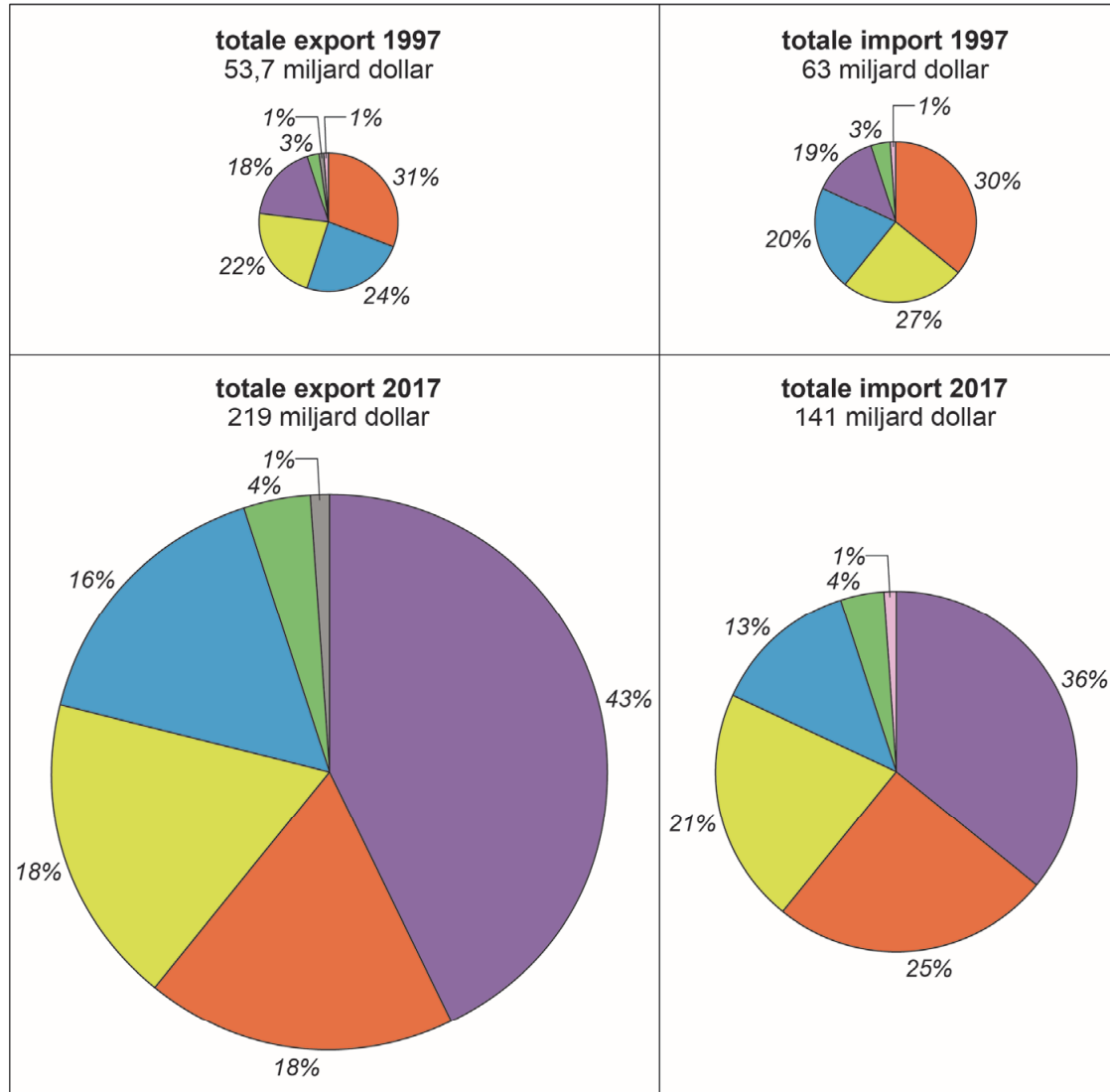
2p 20 Verwacht jij dat het aandeel van Brazilië in de wereldhandel in 2025 **wel** of **niet** boven 1% blijft?

Geef twee argumenten voor je keuze.

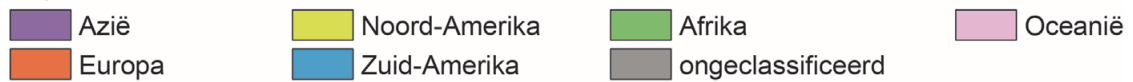
Opgave 5 – Ontwikkelingsland Brazilië: Handelspartners van Brazilië

bron 11

Handelspartners Brazilië in 1997 en 2017

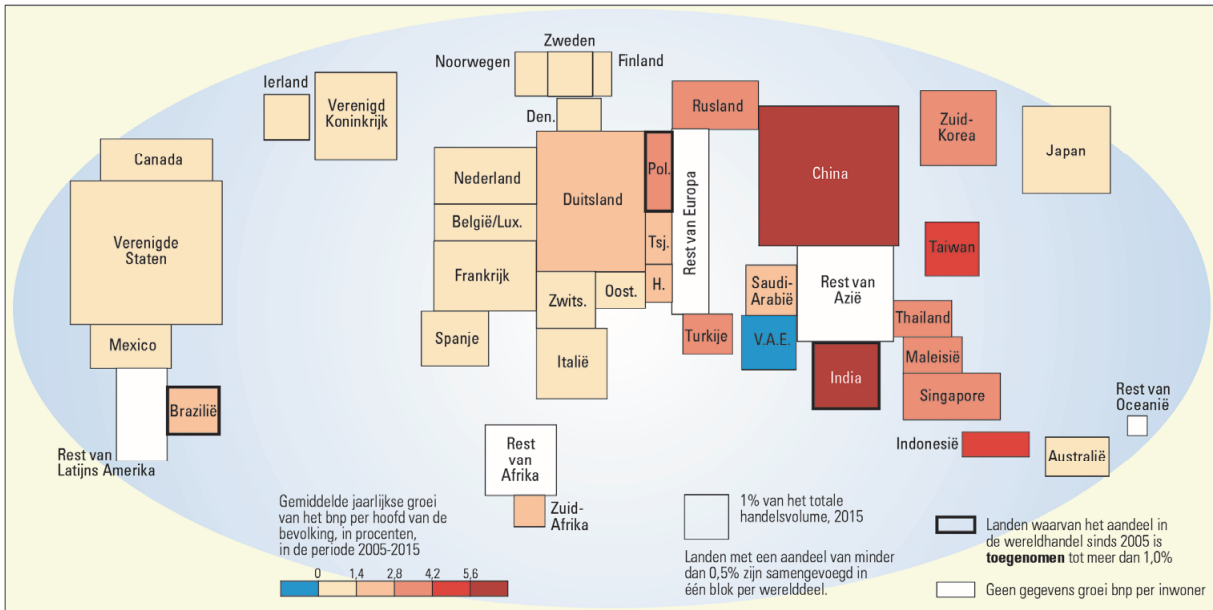


Legenda:



bron 12

Aandeel in de wereldhandel 2015



Bronvermelding

Een opsomming van de in dit examen gebruikte bronnen, zoals teksten en afbeeldingen, is te vinden in het bij dit examen behorende correctievoorschrift, dat na afloop van het examen wordt gepubliceerd.